




IME IN PRIIMEK:

1. KAJ JE NA SLIKI?

- a) ZDRAVSTVENI DOM
- b) KNJIŽNICA
- c) GLEDALIŠČE
- č) GALERIJA



2. V KATERA PROSTORA **NE** VABIJO NAPISI?

- a) V STRANIŠČE
- b) V KAVARNO
- c) V KNJIGARNO
- č) V KINODVORANO

3. KDO OBNAVLJA UMETNIŠKA DELA? PREPIŠI OŠTEVILČENE ČRKE IN IZVEŠ.



1 2



3 4



5



6 7

DELA OBNAVLJA

6 7 1 4 3 2 6 3 4 5 6



4. KAKO JE IME LUTKI, KI JO JE IZDELAL MIZAR PEPE? LUTKI JE IME _____

5. KAJ JE POTREBOVAL MIZAR PEPE, DA JE IZDELAL LUTKO?



K

L

3

1

7

OŠTEVILČENE ČRKE PRENESI NA SPODNJE ČRTICE. TAKO IZVEŠ, KAJ IZDELUJEJO

MIZARJI IZDELUJEJO

1

2

3

4

5

3

6

7

8

5

9

3

1

2



5

4

10



6. ČESA NE VIDIŠ V MIZARSKI DELAVNICI? PREČRTAJ.



_____ .



5 10



2



9 4



6 8

0 MIZARJI.

5 ...


7. KATERE ŽIVALI SO NA FOTOGRAFIJAH?







8. KATERI KOŠČEK MANJKA NA FOTOGRAFIJI?



9. KAKŠNA LUTKA NASTANE, ČE NA DLAN NATAKNEMO NOGAVIČKO ALI PAPIRNATO VREČKO IN NANJO NALEPIMO NEKAJ DODATKOV ZA OČI, NOS IN USTA?

REŠI RAČUNE IN VPIŠI ČRKE OB REZULTATIH.

$$36 + 64 = \boxed{} = A$$

$$215 - 145 = \boxed{} = N$$

$$122 - 32 = \boxed{} = \check{C}$$

$$130 - 70 = \boxed{} = M$$

$$320 - 240 = \boxed{} = I$$

NASTANE _____ LUTKA.
60 80 60 80 90 70 100